



وزارة التربية

الإدارة العامة لمنطقة مبارك الكبير التعليمية

نهاية الفصل الدراسي الثاني  
٢٠١٩ / ٢٠١٨

السابع	الصف
الاجتماعيات	المادة

المنهج الكامل

نموذج إجابة





وزارة التربية

العام الدراسي : ٢٠١٨/٢٠١٩م

امتحان المنهج الكامل

الإدارة العامة لمنطقة مبارك الكبير التعليمية

مقرر / الدراسات الاجتماعية الكويت والوطن العربي

الزمن : ساعة و ٤٥ دقيقة

التوجيه الفني للاجتماعيات

للمصف السابع المتوسط

عدد الأوراق : ( ٦ )

\*\*\*\*\*

السؤال الأول ( موضوعي ) : يتكون من ( أ - ب - ج - د - هـ - و ) : ( لكل إجابة درجة ١ × ٣٦ = ٣٦ درجة )

( أ ) ضع خطأً تحت الخيار الصحيح من بين الخيارات التي تلي كل عبارة مما يأتي :

١- تبلغ مساحة الوطن العربي من جملة مساحة العالم حوالي : ص ٢٣  
أ- ١٠% ب- ٢٠% ج- ٣٠% د- ٤٠%

٢- عملية تركيب وجمع المواد المصنعة على اختلاف مصادرها كي نحصل على سلع متنوعة : ص ١٤٣  
أ - الصناعات اليدوية ب- الصناعات النفطية ج- الصناعات الحديدية د- الصناعات التجميعية

أ	ب	ج	د
١	٢	٣	٤
٥	٦	٧	٨
٩	١٠	١١	١٢
١٣	١٤	١٥	١٦
١٧	١٨	١٩	٢٠
٢١	٢٢	٢٣	٢٤
٢٥	٢٦	٢٧	٢٨
٢٩	٣٠	٣١	٣٢

٣- الصورة التي أمامك تمثل الكتابة : ص ٧٨

أ - الهيروغليفية  
ب - الأبجدية  
ج - الفينيقية  
د - المسمارية

٤- العام الذي عقد فيه مؤتمر قمة الأرض : ص ١٦٧

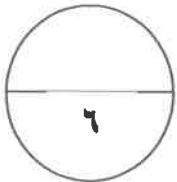
أ - ١٩٩١م ب- ١٩٩٢م ج - ١٩٩٣ د - ١٩٩٤م

٥- الدولة التي تقع فيها جبال الحجاز : ص ٣٨

أ - المغرب ب- اليمن ج - السعودية د - موريتانيا

٦- الرياح والشمس من مصادر الطاقة : ص ١٧١

أ - الغير متجددة ب- المتجددة ج - الناضبة د - المحدودة



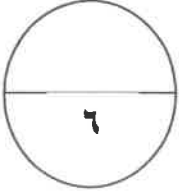
تابع / السؤال الأول :

(ب) أكمل العبارات الآتية بما يناسبها :

- ١- وزن الهواء فوق أي مكان يسمى : الضغط الجوي . ص ٤٤
- ٢- تبلغ المساحة المزروعة في الوطن العربي من المساحة القابلة للزراعة حوالي : ٥٦% . ص ١١٦
- ٣- يطلق على البحرين قديما باسم : أورال ص ٨٩



- ٤- أكثر الدول العربية سكانا عام ٢٠١٤م دولة تسمى : مصر . ص ١٠٠
- ٥- الصورة التي أمامك تمثل معلم ديني يسمى : مكة المكرمة - الكعبة . ص ٩١
- ٦- الدولة العربية التي تحتل المركز الأول في إنتاج البن تسمى : اليمن . ص ١١٤

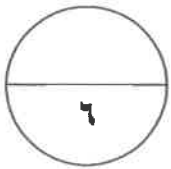


( ج ) صنف الكلمات الآتية حسب الجدول التالي :

( الإنجيل - موسى عليه السلام - القرآن الكريم - عيسى عليه السلام - التوراة - محمد صلى الله عليه وسلم )

ص ٩٠

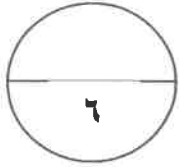
الديانة	الكتاب	النبي
الإسلام	القرآن الكريم	محمد صلى الله عليه وسلم
المسيحية	الإنجيل	عيسى عليه السلام
اليهودية	التوراة	موسى عليه السلام



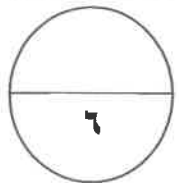
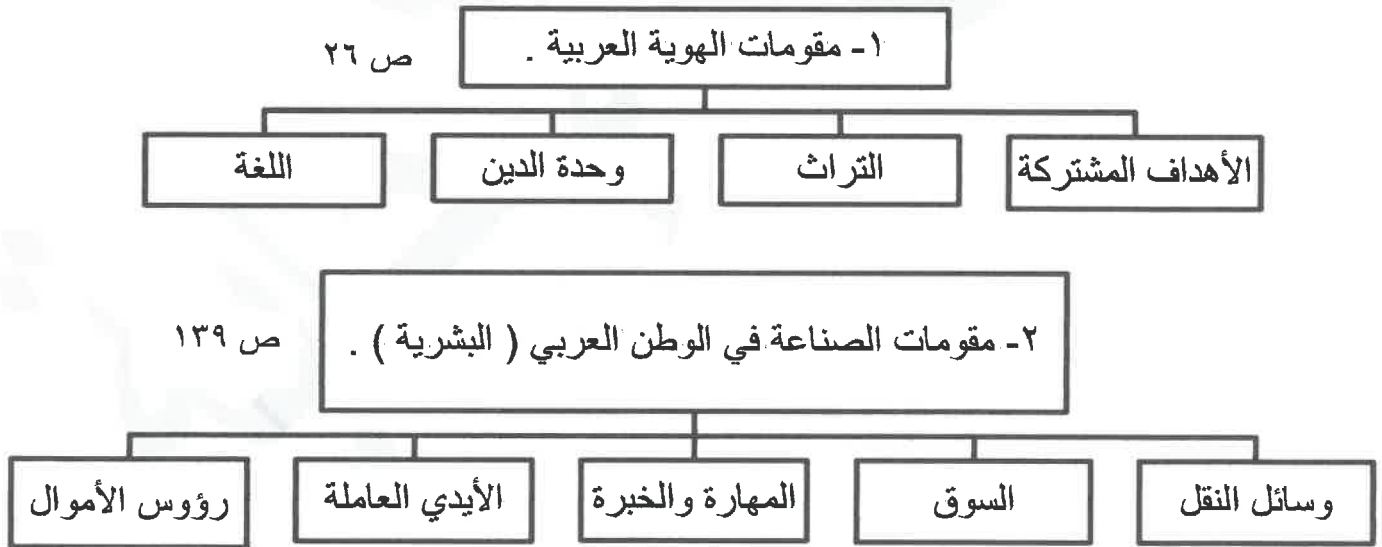
تابع / السؤال الأول :

( د ) أكتب المفاهيم أو المصطلحات الدالة على العبارات التالية :

م	المفهوم أو المصطلح	العبرة
١	الموقع الاستراتيجي ص ٢٨	- أي موقع ذي مكانة مهمة بين دول العالم .
٢	الطاقة ص ١٢٥	- قوى محركة للآلات وعنصر مهم للتقدم والتطور الاقتصادي في جميع المجالات .
٣	البحيرة ص ٦٠	- مسطح مائي تحيط به اليابسة من جميع الاتجاهات .
٤	التلوث ص ١٦٦	- الضرر الذي يلحق بالتربة والهواء والماء .
٥	الحضارة ص ٧١	- كل ما يطرأ على المجتمع من تقدم ورقي في جميع نواحي الحياة الدينية والسياسية والاقتصادية والفكرية .
٦	التجارة البينية ص ١٥٢	- التبادل التجاري بين الدول العربية .

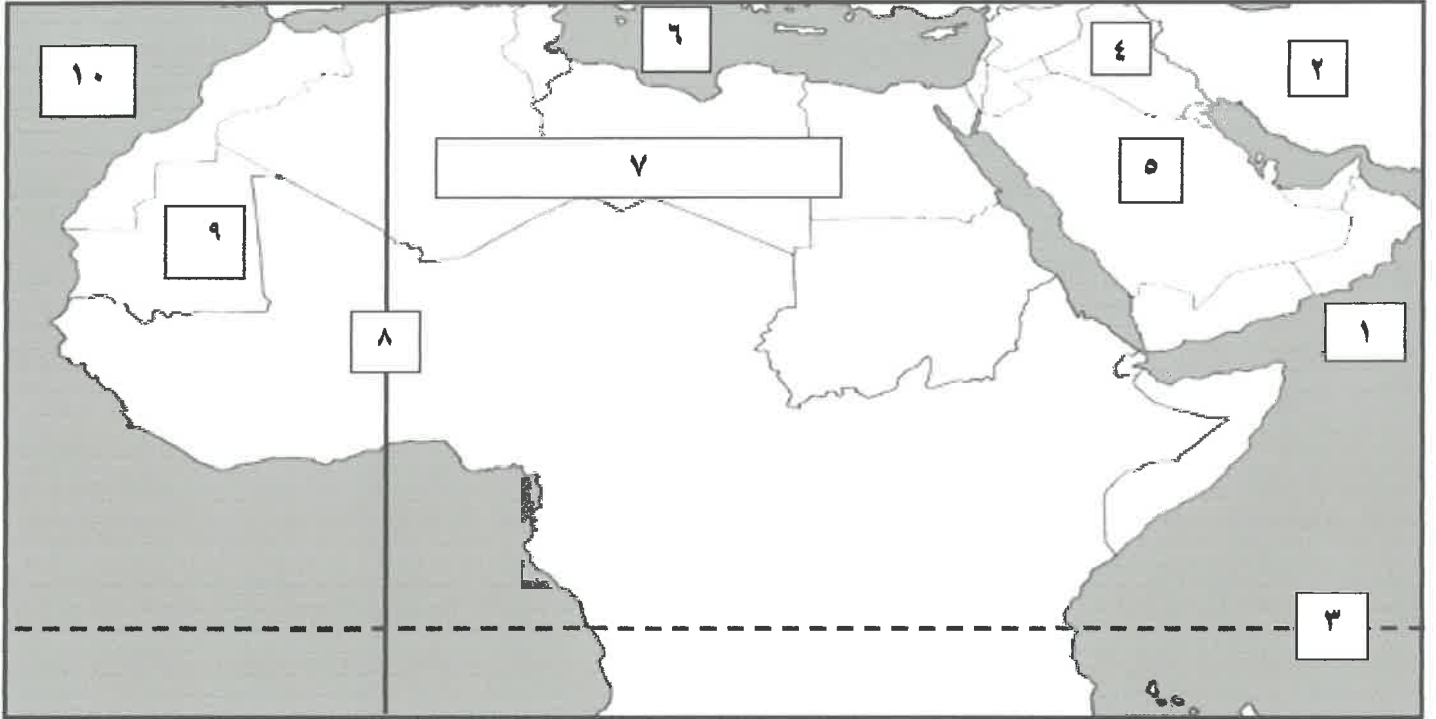


( هـ ) أكمل المخططات السهمية التالية :

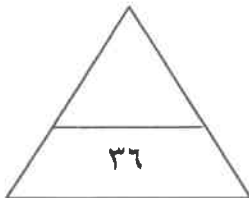
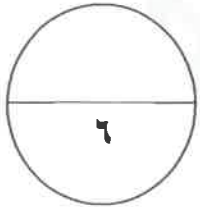


**تابع / السؤال الأول :**

**( و ) أمامك خريطة الوطن العربي الصماء أكتب الرقم الدال على العبارات التالية :**



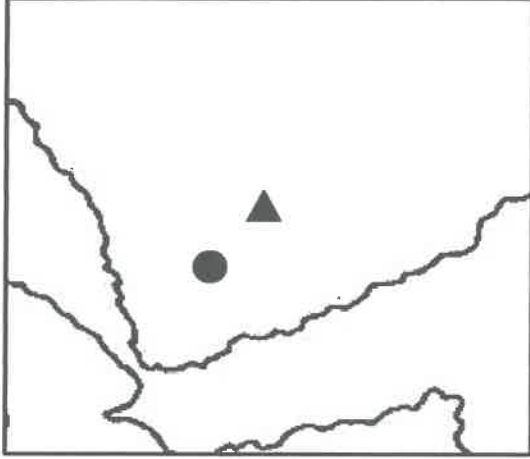
- المحيط الأطلسي يمثل على الخريطة الرقم ( ١٠ ) ص ٥٨
- دولة موريتانيا يمثلها على الخريطة الرقم ( ٩ ) ص ٢٣
- البحر المتوسط يمثل في الخريطة الرقم ( ٦ ) ص ٢٨
- حضارة بلاد الرافدين يمثلها على الخريطة الرقم ( ٤ ) ص ٧١
- هضبة نجد يمثلها على الخريطة الرقم ( ٥ ) ص ٤٠
- خط غرينتش يمثل على الخريطة الرقم ( ٨ ) ص ٣١



الدرجة بالحروف : .....

**السؤال الثاني ( المقالى ) يتكون من ( أ - ب - ج ) :**

**( أ ) لاحظ خريطة حضارات بلاد اليمن التي أمامك ثم أجب عما يلي :**



١- حدد - مملكة سبأ باستخدام الرمز ( ▲ ) . ص ٨٥ ( درجة )

- مملكة حمير باستخدام الرمز ( ● ) . ( درجيه )

٢- علل - منطقة جنوب غرب شبه الجزيرة العربية من أكثر المناطق

ملاءمة لقيام الحضارة . ( درجتان - يكتفى بإجابتين )

\* توافر المياه العذبة . \* المناخ المناسب لقيام الزراعة .

\* الموقع الذي سمح بقيام النشاط التجاري .

**(ب) قارن بين كل مما يلي :**

أوجه المقارنة	منظمة الأوبك ص ١٣٤	منظمة الأوبك ص ١٣٥
التعريف	منظمة عالمية تعتمد على صادراتها النفطية اعتمادا كبيرا لتحقيق مدخولها . (درجة)	منظمة الدول العربية المصدرة للنفط . (درجة)
المقر	فيينا (درجة)	الكويت (درجة)

**( ج ) علل لما يأتي :**

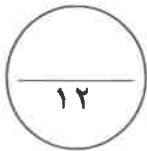
١- ازدهار الزراعة في بلاد الرافدين . (درجتان - يكتفى بإجابتين) ص ٨١

\* خصوبة تربتها . \* سعة سهولها . \* وفرة مياهها .

٢- تحتل الأغنام مكانا مهما ضمن الثروة الرعوية في الوطن العربي . (درجتان - يكتفى بإجابتين) ص ١١٨

\* الأكثر انتشارا في المراعي العربية . \* أكثر الحيوانات المستأنسة والملائمة لمراعي الوطن العربي ، وذلك

لتحملها الجفاف والانتقال . \* لأهمية منتجاتها بالنسبة للسكان . \* مصدر أساسي من مصادر الثروة القومية .



**السؤال الثالث (المقالى) يتكون من ( أ - ب - ج ) :**

**( أ ) إقرأ الفقرة الآتية ثم أجب عن الأسئلة التي تليها :**

" يمتد الوطن العربي من المحيط الأطلسي غربا إلى بحر العرب والخليج العربي شرقا ومن خط الاستواء إلى البحر المتوسط شمالا ، هذا الاتساع الكبير لمساحة الوطن العربي ترتب عليه تنوع في أشكال سطح الأرض أو كما تعرف باسم التضاريس والتي من أهم أشكالها ( السهول - الجبال - الهضاب ) . "

١- عرف - ما تحته خط .

\* مساحة كبيرة من سطح الأرض تتميز باستوائها وقلة ارتفاعها . ص ٤٢ ( درجة )

٢- فرق بين كلا من .

السهول الفيضية ص ٤٢	السهول الساحلية ص ٤٢
هي الأراضي المنخفضة التي تكونت من التربة التي حملتها مياه الأنهار . ( درجة )	هي الأراضي المنبسطة التي تجاور سواحل البحار والمحيطات . ( درجة )

**(ب) ماهي مقترحاتك فيما يلي :**

١- المحافظة على ثروة المياه . ص ٦٣ ( درجتان - يكتفى بمقترحين وما يراه المصحح مناسب )  
\* ترشيد استخدام المياه والحد من التبذير في المنازل . \* الحد من هدر المياه في عمليات الري وذلك باستخدام الوسائل الحديثة كالرش بالتنقيط والمحوري . \* تنظيم عملية الاستفادة من المياه الجوفية ومنع تسرب الأملاح الملوثة إليها واستثمارها على الوجه الأمثل . \* تطوير استعمال الصرف الصحي المعالجة في الزراعة . \* إقامة البحيرات والسدود لتجميع مياه الأمطار والسيول للاستفادة منها في فصل الجفاف . \* توقيع اتفاقيات مع الدول المشاركة ودول المنبع لتحقيق مصالح الدول العربية المعنية .

٢- حماية الموارد الطبيعية . ص ١٧١ ( درجتان - ما يراه المصحح مناسب )  
\* الاستخدام السليم للموارد بعيدا عن الاستغلال السيئ للثروات الطبيعية وتلويثها بالنفايات . \* المحافظة على نظافة هذه الموارد بحيث تصبح قادرة على تجديد مواردها والتخلص من مخاطر التصحر وتلاشي تلوث الشواطئ .

**( ج ) أكتب فيما يلي :**

١- العوامل التي ساعدت على قيام الحضارة المصرية القديمة . ص ٧٥ (درجتان - يكتفى بإجابتين )  
\* تنوع الصخور والمعادن . \* امتداد الصحراء نهر النيل . \* اعتدال المناخ وجفافه .  
٢- العقبات التي تواجه الإنتاج الزراعي في الوطن العربي . ص ١٦١ (درجتان - يكتفى بإجابتين )  
\* عدم استغلال الأراضي القابلة للزراعة لندرة مياه الري أو تنذب الأمطار أو الأيدي العاملة . \* اتباع طرق الزراعة التقليدية في معظم أجزاء الوطن العربي . \* زحف الرمال ( التصحر ) وانجراف التربة . \* تلوث التربة نتيجة للإسراف في استخدام المبيدات الحشرية وارتفاع نسبة الملوحة بالتربة . \* الرعي الجائر .