



وزارة التربية

الإدارة العامة لمنطقة مبارك الكبير التعليمية

اختبار نهاية الفصل الدراسي الثاني
٢٠١٩ / ٢٠١٨

«الخامس»	الصف
«الاجتماعيات»	المادة



نموذج إجابة

نموذج إجابة امتحان نهاية الفصل الدراسي الثاني للصف الخامس الابتدائي
للعام الدراسي ٢٠١٨م - ٢٠١٩م

(أجب عن جميع الأسئلة)

أولاً: الأسئلة الموضوعية:

السؤال الأول يتكون من (أ - ب)

(أ) اختر الإجابة الصحيحة من بين البدائل التالية بوضع خط تحتها: (١×٦=٦ درجات)

١- حدث الغزو العراقي الغاشم على دولة الكويت في عام: ص ٥٨

(١٩٩٠م - ١٩٩١م - ١٩٩٢م - ١٩٩٣م)

٢- المدينة التي عقد فيها المؤتمر الشعبي الذي يهدف إلى عودة الشرعية الكويتية هي: ص ٦١

(الخبر - الرياض - الدمام - جدة)

٣- من المناطق الصناعية في دولة الكويت: ص ٨٢

(صباحان - الجهراء - الوفرة - الفنتاس)

٤- الفاكهة التي نجحت دولة الكويت في زراعتها: ص ٨٤

(البرتقال - الموز - الفراولة - التفاح)

٥- من الدول العربية التي شاركت في تحرير دولة الكويت: ص ٦٤

(فرنسا - مصر - بريطانيا - الولايات المتحدة الأمريكية)

٦- الهيئة التي تُشرف على حماية البيئة من التلوث هي: ص ٩٢

(الهيئة العامة للشباب والرياضة - الهيئة العامة للبيئة - الهيئة العامة للصناعة - الهيئة العامة للزراعة)

(ب) ضع علامة (✓) أمام العبارة الصحيحة وعلامة (×) أمام العبارة الخاطئة: (١×٦=٦ درجات)

١- أتعلم تاريخ بلادي وأنمي معلوماتي التاريخية من خلال زيارة المتاحف (✓) ص ٩٧

٢- يُشرف على الهيئة العامة للشباب والرياضة وزير الإسكان. (×) ص ٩٢

٣- تحتفظ دولة الكويت باحتياطي النفط بنسبة ٩٤%. (×) ص ٨٠

٤- من أهم الطرق في صيد الأسماك قديماً في دولة الكويت القرقور. (✓) ص ٨٥

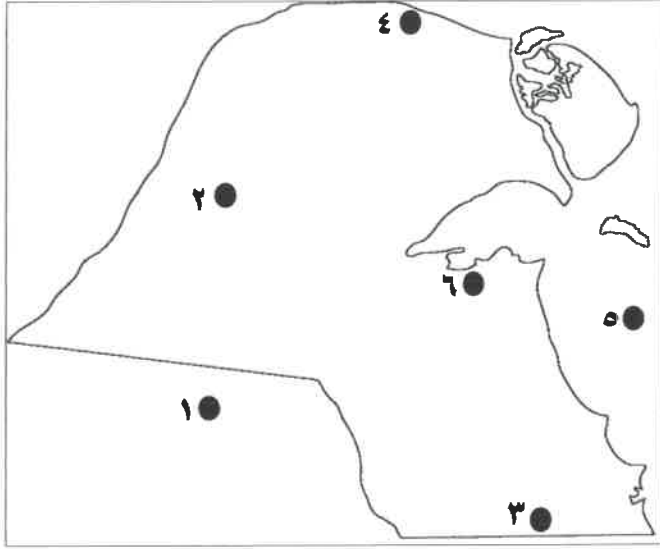
٥- تعد حرب تحرير دولة الكويت أول حرب إلكترونية في العالم. (✓) ص ٦٥

٦- من أهداف الهيئة العامة للصناعة تنظيم المهرجانات. (×) ص ٩٢






السؤال الثاني يتكون من (أ - ب - ج)

(أ) لاحظ خريطة دولة الكويت ثم نفذ المطلوب: (١×٥=٥ درجات) ص ٨١ ص ٨٤



- منطقة الشويخ الصناعية يمثلها الرقم (٦)
- منطقة العبدلي الزراعية يمثلها الرقم (٤)
- منطقة الوفرة الزراعية يمثلها الرقم (٣)
- الخليج العربي يمثلها الرقم (٥)
- المملكة العربية السعودية يمثلها الرقم (١)

(ب) اختر من المجموعة (أ) ما يرتبط بها من المجموعة (ب) بوضع الرقم في المكان المناسب: ص ٨٩ (١×٣=٣ درجات)

(أ)	الرقم	(ب)
١- 	٣	شركة ناقلات النفط الكويتية
٢- 	١	شركة نفط الكويت
٣- 	٢	شركة صناعة الكيماويات البترولية
	شركة البترول العالمية



ج) أكمل العبارات التالية بما يناسبها: (١×٤=٤ درجات)

- ١- الحكومة المؤقتة للكويتيين في الخارج أيام الاحتلال العراقي كانت في مدينة الطائف . ص ٦١
- ٢- من الأماكن السياحية في دولة الكويت التي نستمتع بها بالنشاطات البحرية وصيد الأسماك منتزه الخيران ص ٩٧
- ٣- من أهم مناطق تربية الثروة الحيوانية في دولة الكويت هي الصليبية أو الشقاييا أو الوفرة . ص ٨٥
- ٤- أول ميناء تجاري في دولة الكويت وأكبرها حيث يضم ٢١مرسى و ٢٥ مستودعاً هو ميناء الشويخ ص ٨٨

ثانياً: الأسئلة المقالية:

السؤال الأول يتكون من (أ - ب - ج)

أ) عرف ما يلي (١×٤=٤ درجات)

- ١- العصيان المدني : (الامتناع عن العمل وعن التعاون مع النظام المحتل بأي شكل من الاشكال) ص ٦٠
- ٢- الاستثمار : (توظيف الفائض من الأموال الناتج عن زيادة دخل الدولة) ص ٨٠
- ٣- الزراعة المحمية : (زراعة الخضروات في غير مواسمها بحمايتها من تقلبات الطقس وذلك في بيوت بلاستيكية.) ص ٨٤
- ٤- السياحة : (انتقال الإنسان من مكان إلى آخر لفترة معينة ولغرض معين مثل: "الاستماع-الراحة-المعرفة" ويمكن أن تكون داخل البلاد أو خارجها) . ص ٩٦

ب) أذكر فيما يلي: - (١×٢=٢ درجة) ((يكتفى بنقطة واحدة))

- ١- أعمال اللجان الشعبية أيام الاحتلال العراقي الغاشم على دولة الكويت. ص ٦١
إدارة الجمعيات التعاونية /حراسة الاحياء السكنية /القيام بأعمال النظافة وتوفير الخبز/توصيل المساعدات المختلفة للأهالي
- ٢- جهود دولة الكويت في تشجيع القطاع الصناعي. ص ٨١
اقامة مناطق صناعية /تقديم القروض /إعفاء الآلات الصناعية من الرسوم الجمركية /اقامة معاهد للتدريب الصناعي



ج) اقرأ الفقرة التالية ثم أجب عن الأسئلة التي تليها :- (١×٢=٢ درجة) ص ٦٤

كان لدول الخليج العربي دور كبير في تحرير دولة الكويت من خلال المشاركة بقوات عسكرية واستخدام

مطارات دول الخليج العسكرية وقد كان للملكة العربية السعودية دور كبير في هذا التحرير.

١- ضع عنواناً للفقرة السابقة:

موقف الدول الخليجية في تحرير دولة الكويت (أوي عنوان مناسب يكتبه المتعلم)

٢- ماهو دور دول الخليج في تحرير دولة الكويت؟ ص ٦٤

دور كبير في تحرير دولة الكويت /المشاركة بقوات عسكرية / استدعاء القوات الخليجية للانطلاق

من أراضيها لتحرير دولة الكويت/ وقد كان للمملكة دور كبير في هذا التحرير .

السؤال الثاني يتكون من (أ - ب - ج - د)

أ) علل ما يلي: (١×٢=٢ درجة)

١- ضعف حرفة الرعي السائدة في دولة الكويت. ص ٨٥

بسبب اكتشاف النفط .

٢- اعتماد دولة الكويت على السمك كمصدر غذائي رئيسي. ص ٨٥ ((يكتفى بنقطة واحدة))

بسبب فقر البيئة الصحراوية / وتوافر السمك في مياه الخليج العربي حيث يمتاز بوفرتة وجودة أنواعه.

ب) عدد أهم الموانئ التجارية التابعة لمؤسسة الموانئ الكويتية.

١- ميناء الشويخ

٢- ميناء الشعبية ٣- ميناء الدوحة

ج) أذكر لمايلي: (١×٢=٢ درجة) ((يكتفى بنقطة واحدة))

١- مصادر الدخل في دولة الكويت. ص ٨٠

النفط والغاز الطبيعي / الثروة السمكية / الصناعات النفطية / الزراعة / الثروة الحيوانية

٢- فوائد السفر. ص ٩٨

تفريج هم / اكتساب معيشة / علم واداب / صحبة ماجد



(د) قارن بين كلاً من حيث الهدف: (١×٢=٢درجة) ص ٩٢

الهيئة العامة للشباب والرياضة	الهيئة العامة للصناعة
<ul style="list-style-type: none">- بناء الشباب الكويتي روحاً وجسداً- ابراز الوجه الحضاري محليا ودوليا في مجال الشباب والرياضة .- تدريب الشباب واعدادهم للإسهام في مختلف الخدمات العامة .- تنظيم المهرجانات والمسابقات .- تتولى مسؤولية قسم الجوائز والمعسكرات وبيوت الشباب ومراكز الشباب.	<ul style="list-style-type: none">- تطوير الصناعة المحلية .- تشجيع العمالة الوطنية .- تنويع الصناعات المحلية .

