



التربية

وزارة

إعداد للتعليم العام

مكتب الوكيل المسـ



تمودج

الإجائية

الفترة الدراسية الثانية

العام الدراسي : 2017 / 2016 هـ

نموذج إجابة

اجب عن جميع الأسئلة التالية:

القسم الأول الأسئلة الموضوعية

السؤال الأول :



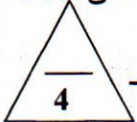
(أ) أكتب بين القوسين الاسم أو المصطلح العلمي الذي تدل عليه كل عبارة من العبارات التالية:-

- 1- الكمية الفيزيائية التي يمكن من خلالها تحديد مدى سخونة جسم ما أو برودته عند مقارنته بمقياس معياري. ص 14 (درجة الحرارة)
- 2- تمدد السائل عندما نعتبر أن الإناء الذي يحويه لم يتمدد. ص 36 (التمدد الظاهري)
- 3- القوة الكهربائية المؤثرة على وحدة الشحنات الكهربائية الموضوعة عند نقطة. ص 97 (شدة المجال الكهربائي عند نقطة)
- 4- التغير المفاجئ في اتجاه شعاع الضوء عند مروره بشكل مائل على السطح الفاصل بين وسطين مختلفين بالكثافة الضوئية. ص 142 (الانكسار)



(ب) أكمل العبارات التالية بما تراه مناسباً علمياً:-

- 1- مقدار درجة الحرارة $^{\circ}\text{C}$ (100) على مقياس تدرج كلفن بوحدة كلفن ... 373... ص 16
- 2- الزجاج المقاوم لتغيرات درجة الحرارة له معامل تمدد حراري ... صغير جداً... ص 33
- 3- الحرارة الكامنة للتصعيد لمادة معينة تكون ... أعلى ... من الحرارة الكامنة للانصهار للمادة نفسها. ص 54
- 4- كلما زادت المسافة بين لوحَي المكثف الكهربائي فإن سعته الكهربائية تقل..... ص 106



(ج) ضع بين القوسين علامة (✓) أمام العبارة الصحيحة وعلامة (x) أمام العبارة غير الصحيحة فيما يلي :-

- 1- إذا كانت المادة قادرة على اختزان الحرارة والحفاظ عليها لفترة طويلة تكون السعة الحرارية النوعية لها صغيرة. ص 25 (X)
- 2- تتكون السحب نتيجة تكثف جزيئات بخار الماء على جسيمات الغبار الموجودة في الجو. ص 44 (✓)
- 3- عندما تكون الشحنة المسببة للمجال الكهربائي سالبة يكون اتجاه المجال مبتعداً عنها. ص 97 (X)
- 4- زيادة سعة المكثف المتصل ببطارية تسمح بتخزين طاقة كهربائية أكبر في المكثف. ص 110 (✓)



درجة السؤال الأول

ضع علامة (✓) في المربع الواقع أمام أنسب إجابة لكل من العبارات التالية :-

- 1- كمية الطاقة الحرارية اللازمة لرفع درجة حرارة 1Kg من نحاس سعته الحرارية النوعية 390 J/Kg.K من درجة 10°C الى درجة 50°C بوحدة (J) تساوي: ص 23
- 390 3900 15600 19500
- 2- أثناء تحول الجليد الى ماء فإنه: ص 53
- يكتسب حرارة وتبقى درجة حرارته ثابتة. يفقد حرارة وتبقى درجة حرارته ثابتة.
 يكتسب حرارة وترتفع درجة حرارته. يفقد حرارة وتتنخفض درجة حرارته.
- 3- شدة المجال الكهربائي المؤثر عند نقطة تبعد 5cm عن شحنة نقطية مقدارها $4 \times 10^{-6} \text{ C}$ بوحدة (N/C) تساوي: ص 98
- 1.6×10^{-3} 1440 14.4×10^6 3.6×10^{12}
- 4- مكثف هوائي سعته $2 \mu\text{F}$ فإذا ملء الخيز بين لوحيه بمادة ثابت عزلتها النسبي $\epsilon_r = 3$ فإن سعته بوحدة (μF) تساوي: ص 106
- 0.66 1.5 4 6
- 5- ملف حلزوني طوله 0.5m مؤلف من 500 لفه يمر به تيار كهربائي مستمر شدته 5A فإن شدة المجال المغناطيسي داخل الملف بوحدة (T) تساوي: ص 128
- 6.28×10^{-9} 3.14×10^{-3} 6.28×10^{-3} 3×10^5
- 6- إذا كانت المسافة بين الشقين في تجربة يونج تساوي 0.003 m و المسافة بين لوح الشقين و الحائل تساوي 4m و كان الطول الموجي للضوء المستخدم $6 \times 10^{-6} \text{ m}$ فإن المسافة بين هذين متتاليين مضيئين بوحدة (m) تساوي: ص 146
- 1.32×10^{-19} 8×10^{-3} 4.5×10^{-2} 1.5×10^2
- 7- التكبير في المرايا المستوية: ص 152
- أكبر من الواحد. يساوي الواحد. أصغر من (1). يساوي صفر.
- 8- إذا سقط شعاع ضوئي على مرآة مقعرة ماراً بالبؤرة فإنه: ص 154
- ينعكس موازياً للمحور الأصلي. ينعكس على نفسه.
 ينعكس موازياً للمحور الأصلي. ينعكس ماراً بمركز التكور.

القسم الثاني الأسئلة المقالية

السؤال الثالث:

(أ) علل لكل مما يلي تعليلاً علمياً دقيقاً:-

- 1- يجب أن يكون حجم الترمومتر أصغر بكثير من حجم المادة التي تقاس درجة حرارتها بواسطة. حتى لا تؤثر الحرارة التي يمتصها الترمومتر على درجة حرارة الجسم.
- 2- يعتبر التكثف عملية تدفئة.

ص 18

لان الطاقة الحركية المفقودة خلال تكثف جزيئات الغاز تتحول الى طاقة حرارية تقوم بتدفئة السطح الذي تصطدم به .

ص 43

(ب) قارن بين كل مما يلي:-



وجه المقارنة	التبخر	الغليان
مكان حدوثه في السائل	عند سطح السائل ص 42	تحت سطح السائل ص 46
وجه المقارنة	عندما يكون البعد البؤري موجب	عندما يكون البعد البؤري سالب
نوع المرآة	مرآة مقعرة	مرآة محدبة ص 155



(ج) حل المسألة التالية :-

ساق معدنية طولها 1m في درجة 25°C وضعت درجة حرارتها إلى 75°C فازداد طولها بمقدار 0.02cm. احسب:

ص 34

0.25

0.25

1- الطول النهائي للساق المعدنية.

0.25

$$L = \Delta L + L_0 = 0.02 \times 10^{-2} + 1 = 1.0002\text{m}$$

2- معامل التمدد الطولي لمادة الساق.

0.5

$$\alpha = \frac{\Delta L}{L_0 \times \Delta T} = \frac{0.02 \times 10^{-2}}{1 \times (75 - 25)} = 4 \times 10^{-6} /^{\circ}\text{C}$$

0.5

0.5

3- معامل التمدد الحجمي لمادة الساق .

0.25

$$\beta = 3\alpha = 3 \times 4 \times 10^{-6} = 1.2 \times 10^{-5} /^{\circ}\text{C}$$

0.5

درجة السؤال الثالث

8

السؤال الرابع :

(أ) ما المقصود بكل مما يلي:-

1- السعر الحراري.

ص 22

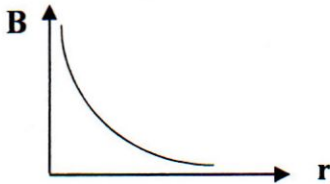
كمية الحرارة اللازمة لرفع درجة حرارة جرام واحد من الماء درجة واحدة سلسيوس.

2 - المجال الكهربائي المنتظم.

ص 100

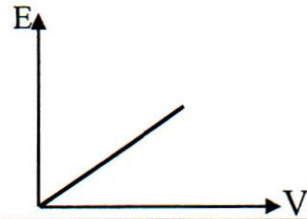
هو المجال الذي يكون ثابت الشدة وثابت الاتجاه في جميع نقاطه.

(ب) وضح بالرسم على المحاور التالية العلاقات البيانية التي تربط بين كل من:-



شدة المجال المغناطيسي (B) عند مركز ملف دائري ونصف قطر الملف (r)

ص 125



شدة المجال الكهربائي (E) و فرق الجهد الكهربائي (V) بين لوحين مكثف مستوي مشحون عند ثابت البعد بين لوحيه

ص 101

(ج) حل المسألة التالية:-

قطعة من الجليد كتلتها (50)g ، درجة حرارتها 0°C اكتسب طاقة حرارية فتحولت الى ماء درجة حرارته 70°C اذا

ص 59

علمت أن: $L_f = (3.33 \times 10^5) \text{ J/Kg}$, $c_{\text{water}} = (4190) \text{ J/Kg.k}$

احسب:

كمية الطاقة الحرارية الكلية اللازمة لتحويل قطعة الجليد عند درجة 0°C الى ماء درجة حرارته 70°C .

$$Q_1 = m \cdot L_f = 0.05 \times 3.33 \times 10^5 = 16650 \text{ J}$$

0.5

0.25

0.25

$$Q_2 = m \cdot c \cdot \Delta T = 0.05 \times 4190 \times (70 - 0) = 14665 \text{ J}$$

0.5

0.5

0.25

$$Q_T = Q_1 + Q_2 = 16650 + 14665 = 31315 \text{ J}$$

0.25

0.25

0.25

درجة السؤال الرابع

8

السؤال الخامس :

(أ) اذكر العوامل التي يتوقف عليها كل مما يلي :-

1- السعة الحرارية.

- نوع المادة. - كتلة المادة

ص 22

2- شدة المجال المغناطيسي عند نقطة بالقرب من سلك مستقيم يمر به تيار مستمر. (يكتفى بعاملين)

- شدة التيار - بعد النقطة عن مركز السلك - معامل النفاذية المغناطيسية (نوع الوسط) ص 124

(ب) ماذا يحدث في كل من الحالات التالية :-

1 - لدرجة تجمد السائل عندما تضاف إليه مادة مذابة كالمح أو السكر.

تنخفض

2- لشعاع ضوئي عندما يسقط من وسط أكبر كثافة ضوئية الى وسط أقل كثافة ضوئية بزاوية أكبر من الزاوية الحرجة.

يحدث له إنعكاس كلي

(ج) حل المسألة التالية :-

وضع جسم طوله 2cm على بعد 20cm من مرآة مقعرة بعدها البؤري 10cm .

احسب :

1- بعد الصورة عن المرآة.

$$\frac{1}{V} = \frac{1}{f} - \frac{1}{U} = \frac{1}{10} - \frac{1}{20} = \frac{1}{20}$$

$$V = 20 \text{ cm}$$

2- التكبير.

$$M = -\frac{V}{U} = -\frac{20}{20} = -1$$

3- خصائص الصورة. (يكتفى بأثنين)

• حقيقية. 0.25

• مقلوبة. 0.25

• طولها مساوي لطول الجسم.

نموذج إجابة

السؤال السادس :

(أ) فسر لكل مما يلي :-

1- ينضج الطعام أسرع في طنجرة الضغط.

طنجرة الضغط لا تسمح للبخار بالتسرب الى الخارج ما يؤدي الى ارتفاع الضغط داخلها حتى يصبح أعلى من الضغط الجوي فترتفع

ص 47

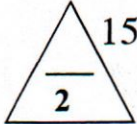
درجة غليان الماء

2- تستخدم الألياف الضوئية في العمليات الجراحية التي تعتمد على المنظار.

بسبب رفعتها وقابليتها للانثناء من دون أن تؤثر على انتقال الضوء داخلها.

(ب) من خلال دراستك لظاهرة الحيود في الضوء :-

ص 159



0.5




* تكون ظاهرة الحيود أكثر وضوحاً كلما كان اتساع الفتحة التي يمر منها الضوء صغير.....

* اذا كان الفتحة التي يمر بها الضوء دائرية الشكل فيظهر الضوء على

الحائل على هيئة ... أهداب دائرية.....

القسم الأكبر من الموجات المتداخلة يتجه نحو وسط الحائل

* تتشكل الأهدب المظلمة نتيجة تداخل الموجات ... متعاكسة الطور.....



ص 146

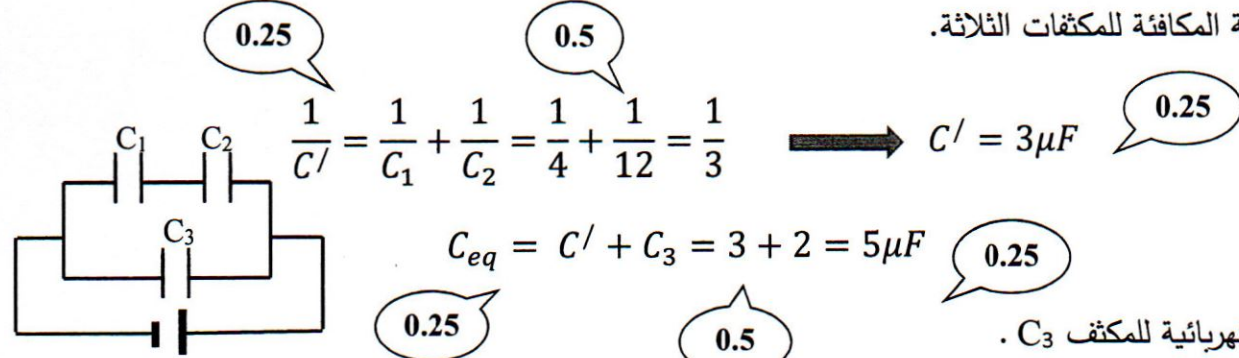
(ج) حل المسألة التالية :-

وصلت ثلاث مكثفات $C_1=(4)\mu F$, $C_2=(12)\mu F$, $C_3=(2)\mu F$ بمصدر جهد مستمر $v = (10) V$ كما هو موضح

ص 113

في الشكل احسب:

1- مقدار السعة المكافئة للمكثفات الثلاثة.



2- الشحنة الكهربائية للمكثف C_3 .

0.25

$$q_3 = C_3 \times V = 2 \times 10^{-6} \times 10 = 2 \times 10^{-5} C$$

0.25

0.5

8

درجة السؤال السادس

انتهت الأسئلة
نرجو للجميع التوفيق والنجاح